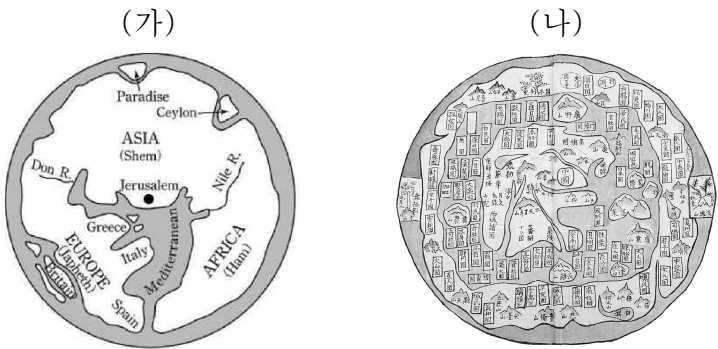


제 4 교시

사회탐구 영역 (세계 지리)

성명		수험번호					2		
----	--	------	--	--	--	--	---	--	--

1. (가), (나) 지도에 대한 설명으로 옳은 것은?



- ① (가)는 이슬람교 세계관이 반영되었다.
- ② (가)는 지구 구체(球體)설을 토대로 제작되었다.
- ③ (나)는 아메리카 대륙이 표현되어 있다.
- ④ (나)는 경위선의 개념이 반영되어 제작되었다.
- ⑤ 지도의 위쪽이 (가)는 동쪽, (나)는 북쪽이다.

2. 다음 자료의 ㉠~㉣에 대한 옳은 설명을 <보기>에서 고른 것은?

[세계 지리 답사 보고서]

2학년 ○반 이름: △△△

주제 : 화산과 빙하의 나라, 뉴질랜드

1. 지역 개관
지형이 험준하고 ㉠ 화산과 지진이 많은 섬나라로, 기후는 연중 온화하고 습윤하다. ㉡ 국내 총생산 비중은 1차 산업 7.5%, 2차 산업 18.3%, 3차 산업 74.2%이다.

2. 주요 답사 지역

㉢ 간헐천, 온천 등이 유명한 관광도시

㉣ 권곡과 호른 등이 발달한 최고봉

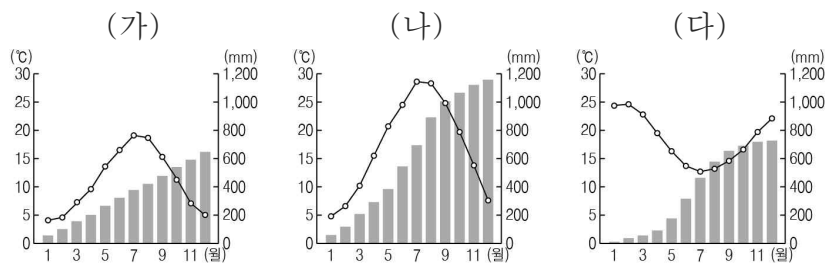
㉠ 41°17'S, 174°46'E에 위치한 수도

<보 기>

ㄱ. ㉠은 속성 정보, ㉡은 공간 정보이다.
 ㄴ. ㉡은 통계 지도 중 점지도로 표현하는 것이 가장 적절하다.
 ㄷ. ㉢은 판의 경계 부근에서 주로 발달한다.
 ㄹ. ㉣은 빙하의 퇴적 작용에 의해 형성된 지형이다.

- ① ㄱ, ㄴ ② ㄱ, ㄷ ③ ㄴ, ㄷ ④ ㄴ, ㄹ ⑤ ㄷ, ㄹ

3. 그래프는 세 지역의 월 평균 기온과 누적 강수량을 나타낸 것이다. (가)~(다) 지역에 대한 설명으로 옳은 것은? [3점]



* 누적 강수량은 1월부터 해당 월까지의 월 강수량을 모두 더한 값임.

- ① (가)는 중적 평야에서 벼의 2기작이 행해진다.
- ② (나)는 겨울철 강수 비중이 높다.
- ③ (다)는 편서풍의 영향으로 연중 습윤하다.
- ④ (나)는 (가)보다 하천의 유량 변동이 크다.
- ⑤ (다)는 (나)보다 기온의 연교차가 크다.

4. 다음 자료는 두 종교의 대표적인 경관이다. (가), (나) 종교에 대한 옳은 설명을 <보기>에서 고른 것은?



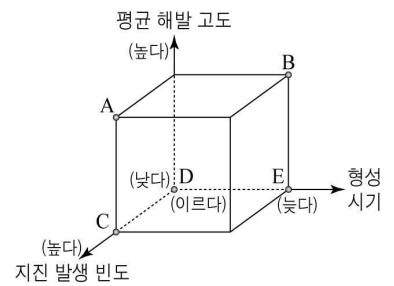
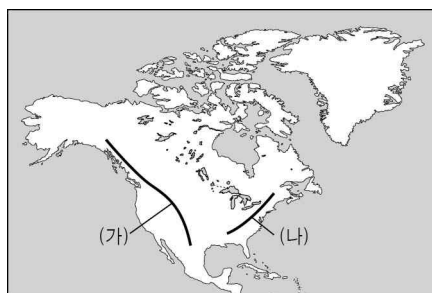
동형의 지붕과 첨탑이 조화를 이룬 모스크 여러 신들의 모습이 화려하게 조각된 사원

<보 기>

ㄱ. (가)는 라마단이라는 금식 기간이 있다.
 ㄴ. (나)는 갠지스 강에서 몸을 씻는 종교 의식이 있다.
 ㄷ. (가), (나)의 기원지는 서남아시아에 위치하고 있다.
 ㄹ. (가)는 소고기, (나)는 돼지고기를 금기시한다.

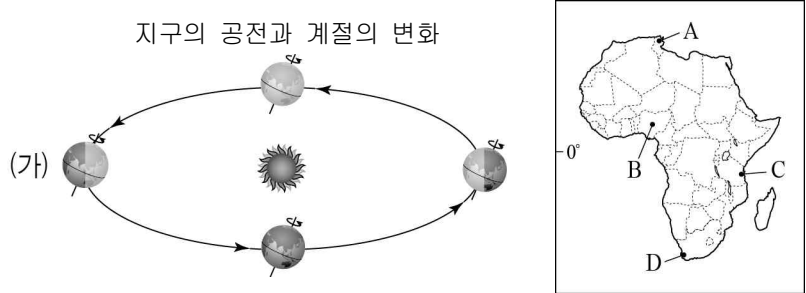
- ① ㄱ, ㄴ ② ㄱ, ㄷ ③ ㄴ, ㄷ ④ ㄴ, ㄹ ⑤ ㄷ, ㄹ

5. 지도의 (가)에 대한 (나) 산지의 상대적 특징을 그림의 A~E에서 고른 것은?



- ① A ② B ③ C ④ D ⑤ E

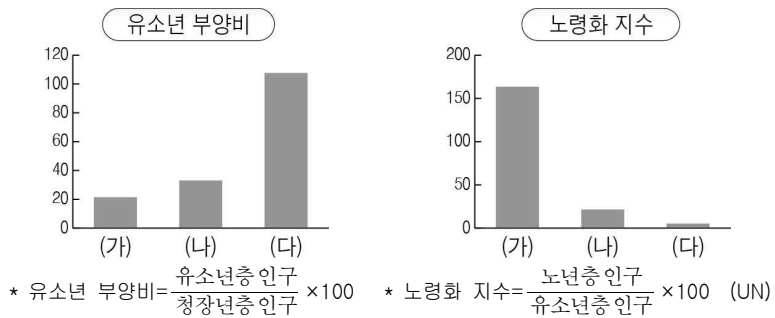
6. 지구가 (가)에 위치했을 때, 지도의 A~D 지역에서 나타나는 현상에 대한 옳은 설명을 <보기>에서 고른 것은? [3점]



<보 기>
 가. A는 고온 건조하여 수목 농업이 이루어진다.
 나. B는 아열대 고압대의 영향을 많이 받는다.
 다. B는 C보다 강수량이 많다.
 리. D는 A보다 낮의 길이가 길다.

- ① 가, 나 ② 가, 다 ③ 나, 다 ④ 나, 리 ⑤ 다, 리

7. 그래프는 (가)~(다) 국가의 인구 특성을 나타낸 것이다. 이에 대한 옳은 설명을 <보기>에서 고른 것은? [3점]



<보 기>
 가. (가)는 유소년층 인구에 비해 노년층 인구가 더 많다.
 나. (다)는 종형의 인구 피라미드가 나타난다.
 다. (가)는 (나)보다 중위 연령이 높다.
 리. (다)는 (가)보다 합계 출산율이 낮다.

- ① 가, 나 ② 가, 다 ③ 나, 다 ④ 나, 리 ⑤ 다, 리

8. 다음은 세계 지리 수업 장면의 일부이다. 발표 내용이 옳은 학생을 고른 것은?

○○ 기후 지역의 지형

(가) 평상시에는 말라있는 호수
 (나) 넓은자갈만남은 지표면
 (다) 버섯을 닮은 형태의 바위
 (라) 모래로 이루어진 언덕

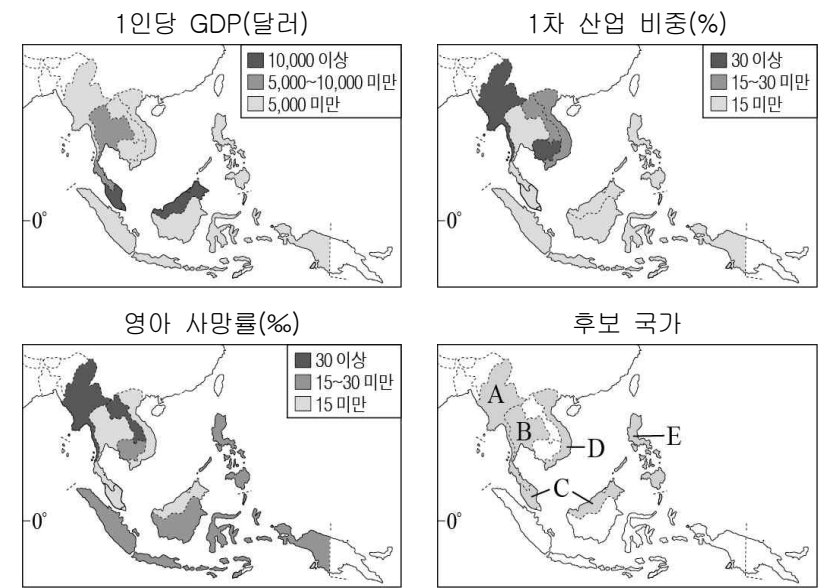
자료의 (가)~(라) 지형에 대해 발표해 보세요.

갑: (가)에 고이는 물은 농업용수로 활용됩니다.
 을: (나)는 하천의 퇴적 작용에 의해 형성됩니다.
 병: (다)는 바람에 의한 침식 작용으로 형성됩니다.
 정: (라)는 바람이 부는 방향에 따라 모양이 변화됩니다.

- ① 갑, 을 ② 갑, 병 ③ 을, 병 ④ 을, 정 ⑤ 병, 정

9. 다음 조건을 모두 만족하는 국가에 아동 병원을 건립하고자 한다. 최종 후보 국가를 지도의 A~E에서 고른 것은? [3점]

- 조건 1: 1인당 GDP 10,000달러 미만
- 조건 2: 1차 산업 비중 15% 이상
- 조건 3: 영아 사망률 15‰ 이상

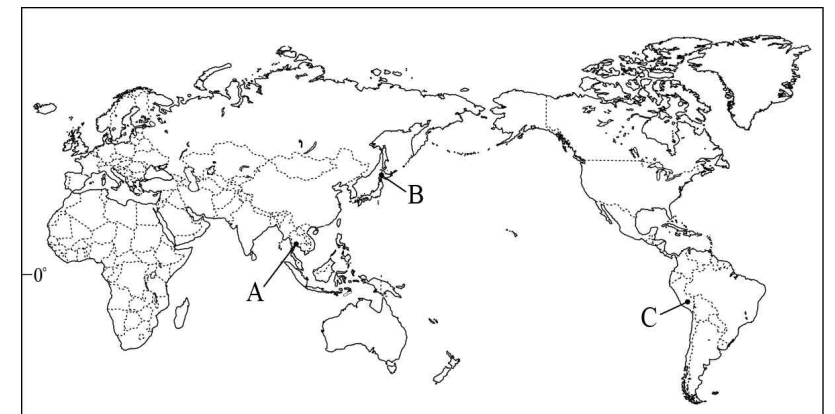


(세계국가편람, 2016)

- ① A ② B ③ C ④ D ⑤ E

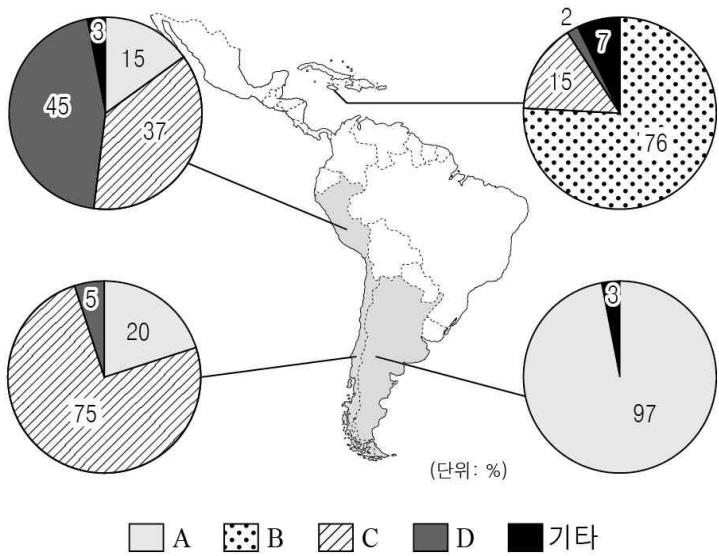
10. 다음 자료의 (가)~(다) 축제가 열리는 지역을 지도의 A~C에서 고른 것은?

(가) 태양신을 숭배하는 고대인들이 한 해 농사의 풍작을 기원하며 태양에 감사를 드리는 행사에서 유래되었다.
 (나) 물을 뿌리면서 한 해 동안의 나쁜 일을 씻어내고 풍작을 기원하는 축제로 우기로 넘어가는 시기에 시작한다.
 (다) 눈과 얼음으로 만든 조형물을 전시함으로써 추위와 폭설이라는 자연 환경을 축제로 발전시켰다.



- (가) (나) (다) (가) (나) (다)
 ① A B C ② A C B
 ③ B A C ④ C A B
 ⑤ C B A

11. 다음 자료는 라틴 아메리카의 국가별 인종(민족) 구성을 나타낸 것이다. A~D에 대한 옳은 설명을 <보기>에서 고른 것은? (단, A~D는 유럽계, 아프리카계, 원주민, 혼혈 인종 중 하나임.) [3점]

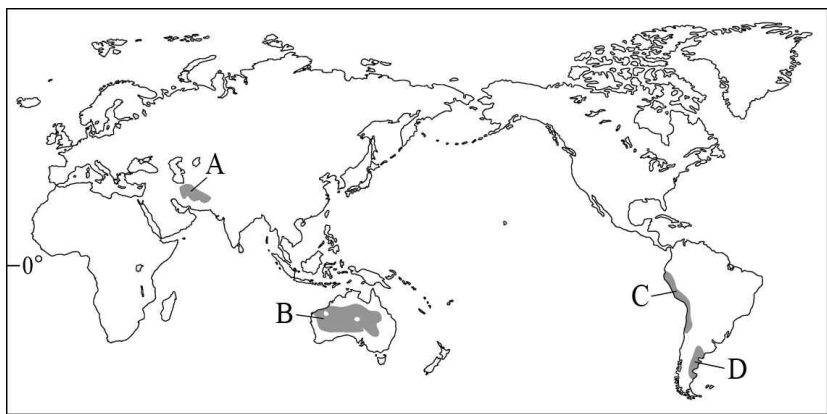


<보 기>
 ㄱ. A는 고산 지역에서 고대 문명을 발달시켰다.
 ㄴ. B는 과거 노예 노동력으로 강제 이주되었다.
 ㄷ. C는 메스티소, 몰라토, 삼보 등으로 구분한다.
 ㄹ. D는 라틴 아메리카 인구에서 차지하는 비중이 가장 높다.

- ① ㄱ, ㄴ ② ㄱ, ㄷ ③ ㄴ, ㄷ ④ ㄴ, ㄹ ⑤ ㄷ, ㄹ

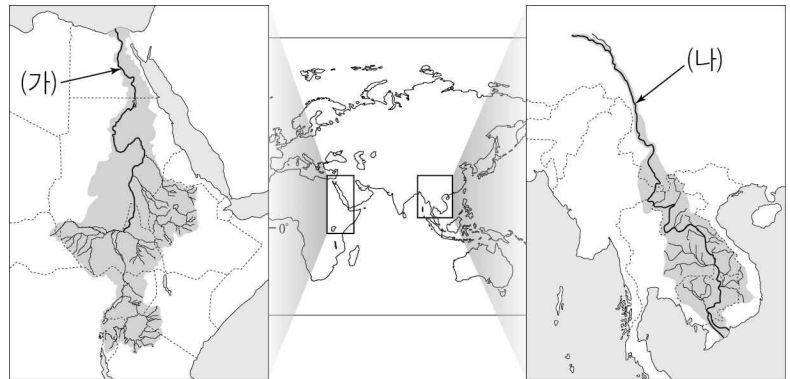
12. 다음 글의 (가), (나)에 해당하는 지역을 지도의 A~D에서 고른 것은?

(가) 강수량은 적지만 인근의 높은 산지로부터 지하수를 얻을 수 있는 지역이다. 이를 지하 관개 수로를 통해 마을로 끌어들이 농업용수와 식수로 이용한다.
 (나) 바다 위의 차갑고 무거운 공기가 육지로 이동하면서 안개가 자주 발생하는 지역이다. 주민들은 그물망을 설치하여 안개를 잡아 물을 얻는다.



- | | | | | | |
|---|-----|-----|---|-----|-----|
| | (가) | (나) | | (가) | (나) |
| ① | A | B | ② | A | C |
| ③ | B | C | ④ | B | D |
| ⑤ | C | D | | | |

13. 지도의 (가), (나) 하천에 대한 설명으로 옳지 않은 것은?



- ① (가)는 남에서 북으로 흐른다.
 ② (나)의 하류는 세계적인 벼농사 지역이다.
 ③ (나)는 세계 4대 문명의 발상지 중 하나이다.
 ④ (가), (나) 모두 국제 하천이다.
 ⑤ (가), (나)의 하구에는 삼각주가 형성되어 있다.

14. 다음 표에 대한 옳은 분석을 <보기>에서 고른 것은? (단, (가)~(다)는 아시아, 아프리카, 유럽 중 하나임.) [3점]

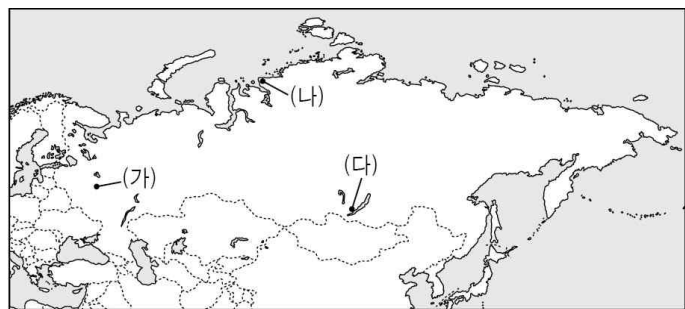
구분	1960년	1980년	2000년	2015년	
세계 총 인구수(백만 명)	3,018	4,440	6,127	7,349	
지역별 인구 비중 (%)	(가)	9.4	10.8	13.3	16.1
	(나)	55.9	59.1	60.6	59.8
비중 (%)	(다)	20.1	15.6	11.8	10.0
	라틴 아메리카	7.3	8.3	8.7	8.7
	앵글로아메리카	6.8	5.7	5.1	4.9
	오세아니아	0.5	0.5	0.5	0.5

(UN)

<보 기>
 ㄱ. (가)는 유럽, (다)는 아프리카이다.
 ㄴ. (나)에는 인구수가 세계 최대인 국가가 포함되어 있다.
 ㄷ. 앵글로아메리카의 인구는 2000년보다 2015년에 더 많다.
 ㄹ. 1960년~2015년의 인구 증가율은 라틴 아메리카가 가장 높다.

- ① ㄱ, ㄴ ② ㄱ, ㄷ ③ ㄴ, ㄷ ④ ㄴ, ㄹ ⑤ ㄷ, ㄹ

15. 지도에 표시된 (가)~(다) 지역의 기후 특성에 대한 옳은 설명을 <보기>에서 고른 것은? [3점]



<보 기>
 ㄱ. (가)는 (나)보다 연평균 기온이 낮다.
 ㄴ. (나)는 (가)보다 연 강수량이 적다.
 ㄷ. (나)는 (다)보다 최난월 평균 기온이 높다.
 ㄹ. (다)는 (가)보다 기온의 연교차가 크다.

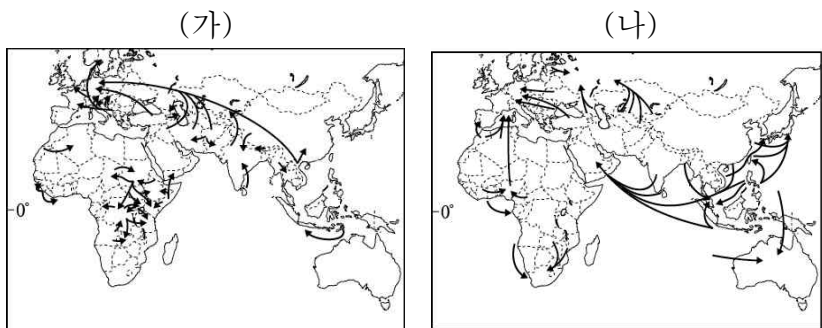
- ① ㄱ, ㄴ ② ㄱ, ㄷ ③ ㄴ, ㄷ ④ ㄴ, ㄹ ⑤ ㄷ, ㄹ

16. 다음 글은 어느 기후 지역의 농업 방식을 나타낸 것이다. ㉠~㉤에 대한 설명으로 옳지 않은 것은? [3점]

연중 고온 다습한 ㉠이 지역의 토양은 영양분이 빗물에 씻겨 내려가 척박하다. 이를 극복하기 위해 원주민들은 ㉡살림을 태워 농경지를 만들고 3~4년간 ㉢작물을 재배한다. 이후 지력이 약해지면 다른 곳으로 이동하여 새로운 농경지를 조성한다. 이외에도 ㉣단일 작물을 대규모로 재배하는 ㉤플랜테이션 농업이 있다.

- ① ㉠ - 대체로 회백색이며 산성 토양이다.
- ② ㉡ - 다양한 높이의 상록 활엽수가 밀림을 이룬다.
- ③ ㉢ - 카사바, 양 등의 작물이 주를 이룬다.
- ④ ㉣ - 생산된 농작물은 대부분 선진국에서 소비된다.
- ⑤ ㉤ - 선진국의 자본과 기술, 원주민의 노동력이 결합된 것이다.

17. 지도의 (가), (나) 인구 이동에 대한 옳은 설명을 <보기>에서 고른 것은? (단, (가), (나)는 경제적, 정치적 이동 중 하나임.) [3점]



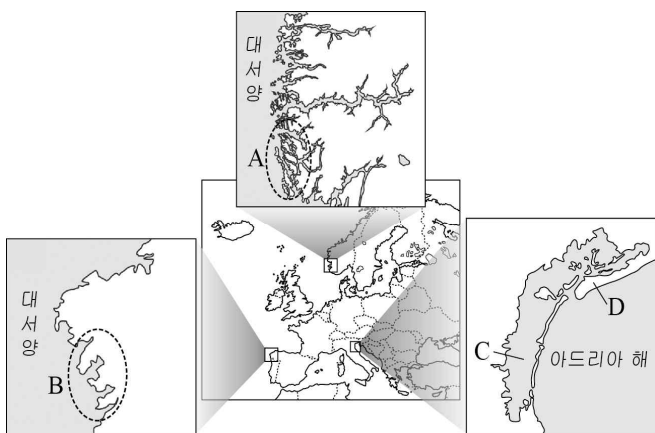
(디르케 세계지도, 2012)

<보 기>

ㄱ. (가)는 일자리 부족, 낮은 임금 등이 주요 배출 요인이다.
 ㄴ. (나)를 통해 인구 유출국으로 유입되는 해외 송금액이 증가한다.
 ㄷ. (가), (나)를 통해 유럽은 무슬림 비중이 증가한다.
 ㄹ. (가)는 (나)에 비해 인구 유입국들의 1인당 GDP 평균이 높다.

- ① ㄱ, ㄴ ② ㄱ, ㄷ ③ ㄴ, ㄷ ④ ㄴ, ㄹ ⑤ ㄷ, ㄹ

18. 지도의 A~D에 대한 설명으로 옳은 것은? [3점]



- ① A 해안은 하천의 침식을 받아 형성되었다.
- ② B 해안은 U자곡이 침수되어 형성되었다.
- ③ C 호수는 염도가 낮아 농업 용수로 사용된다.
- ④ D는 조류의 퇴적 작용으로 형성되었다.
- ⑤ C, D는 해안의 만입부에 주로 발달한다.

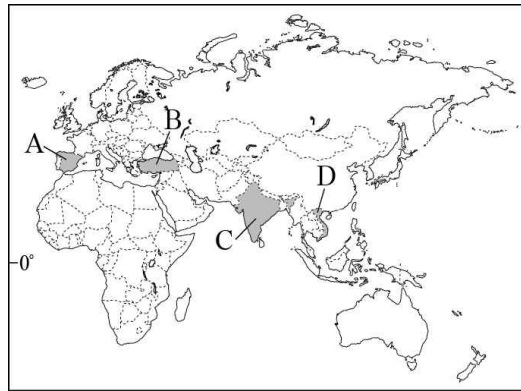
19. 다음 자료에서 설명하는 (가), (나) 음식이 발달한 국가를 지도의 A~D에서 고른 것은?

(가)

- 유래
이슬람 세계로부터 전해진 쌀과 향신료에 해산물을 더해 큰 팬에 볶은 것에서 유래되었다.
- 요리 방법
쌀에 사프란, 토마토, 마늘 등으로 양념한 다음, 해산물을 넣고 볶다가 물을 적당량 넣어 끓인다.

(나)

- 유래
쌀감이 부족한 유목민들이 빠른 시간 안에 간편하게 요리해 먹은 데서 유래되었다.
- 요리 방법
양념한 양고기, 닭고기, 소고기 등을 긴 꼬챙이에 수직 기둥 모양으로 차곡차곡 끼워 숯불에 굽는다.



- | | (가) | (나) |
|---|-----|-----|
| ① | A | B |
| ② | A | D |
| ③ | B | C |
| ④ | C | D |
| ⑤ | D | A |

20. 다음 자료는 수업 시간에 학생이 작성한 형성 평가지의 일부이다. ㉠~㉤ 중 답이 옳게 표시된 것을 고른 것은?

※ 자료와 같은 경관이 주로 나타나는 지역에 대한 설명이 옳으면 '예', 틀리면 '아니요'에 √ 표시를 하시오.

<인공구조물이나 가옥에서 방출되는 열에 의한 피해를 막기 위한 모습>

- 최한월 평균 기온이 -3℃ 이상이다.
예 아니요 ㉠
- 토양층의 동결과 융해가 반복되는 지역이다.
예 아니요 ㉡
- 순록 유목과 사냥, 어로 등의 생활 방식이 나타난다.
예 아니요 ㉢
- 짧은 여름 동안 지표면에는 작은 풀과 이끼류가 자란다.
예 아니요 ㉣

- ① ㉠, ㉡ ② ㉠, ㉢ ③ ㉡, ㉣ ④ ㉢, ㉣ ⑤ ㉣, ㉤

* 확인 사항

- 답안지의 해당란에 필요한 내용을 정확히 기입(표기)했는지 확인 하시오.